

# **SIMULADO 2011**

## **INSTRUÇÕES**

- Verifique se este caderno contém 12 páginas, numeradas de 1 a 12.
- Para cada questão existe apenas UMA resposta certa.
- Você deve ler cuidadosamente cada uma das questões e escolher a resposta certa.
- Essa resposta deve ser marcada na FOLHA DE RESPOSTAS que você recebeu.
  
- Procurar, na FOLHA DE RESPOSTAS, o número da questão que você está respondendo.
- Verificar no caderno de prova qual a letra (A,B,C,D,E) da resposta que você escolheu.
- Marcar essa letra na FOLHA DE RESPOSTAS.

## **ATENÇÃO**

- Marque apenas uma letra para cada questão, mais de uma letra assinalada implicará anulação dessa questão.
- Não será permitida qualquer espécie de consulta.
- Você terá 3 horas para responder a todas as questões e preencher a Folha de respostas.
- O gabarito será publicado em nosso site logo após o término da prova.
- O resultado dos primeiros colocados será divulgado na próxima semana.

## DIREITO

**01.** Considerando os princípios fundamentais da Constituição de 1988, julgue as ações governamentais referidas abaixo e assinale a opção correta.

I. Permissão dada a Nações estrangeiras para que colaborem com a proteção do meio ambiente por meio de unidades policiais alienígenas espalhadas em áreas como a Amazônia, patrimônio natural mundial da humanidade.

II. Proposta de legislação que permita a escravidão no Brasil de indígenas perigosos condenados pela Justiça.

III. Ações administrativas que promovam a conscientização política de todos os brasileiros.

IV. Proposta de legislação complementar para a existência de um único partido político no Brasil.

- a) Todas estão incorretas.
- b) Somente III está correta.
- c) II e IV estão corretas.
- d) I e II estão corretas.
- e) III e IV estão corretas.

**02.** Assinale a opção correta, entre as assertivas abaixo relacionadas às garantias dos direitos fundamentais:

- a) Menor de dezesseis anos pode propor ação popular para anular ato lesivo à proteção do meio ambiente.
- b) O *habeas data* pode ser impetrado para proteção de direito líquido e certo.
- c) Conceder-se-á mandado de segurança para proteger direito líquido e certo, não amparado por *habeas corpus* ou *habeas data*.
- d) Não há possibilidade constitucional de impetração de *habeas corpus* preventivo nem de *habeas corpus* contra ato praticado por particular.

e) O Estado prestará assistência jurídica integral e gratuita a todos os brasileiros residentes no Brasil.

**03.** São privativos de brasileiro nato os cargos de ministro de Estado da Defesa, ministro de Estado da Fazenda e de oficial da Marinha, do Exército ou da Aeronáutica.

( ) Certo ( ) Errado

**04.** Compete à União, dentre outras matérias, legislar concorrentemente sobre:

- a) direito processual.
- b) direito penitenciário.
- c) direito eleitoral.
- d) direito do trabalho.
- e) direito penal.

**05.** Além do órgão de cúpula do Poder Judiciário Brasileiro, guardião da Constituição Federal, existe quatro tribunais superiores, também sediados em Brasília. Os tribunais superiores referentes à Justiça do Trabalho e Eleitoral são compostos, respectivamente, por:

- a) 11 ministros e 33 ministros.
- b) 33 ministros e 27 ministros.
- c) 27 ministros e 07 ministros.
- d) 33 ministros e 15 ministros.
- e) 11 ministros e 07 ministros.

**06.** Acerca da administração direta e indireta, a criação de uma autarquia para executar determinado serviço público representa uma descentralização das atividades estatais. Essa criação somente se promove por meio da edição de lei específica para esse fim.

( ) Certo ( ) Errado

**07.** Entre os elementos sempre essenciais à validade dos atos administrativos, destaca-se um deles que se refere, propriamente, à observância do princípio fundamental da impessoalidade, pelo qual deve atender ao interesse público, sintetizado no termo

- a) competência
- b) legalidade
- c) forma
- d) motivação
- e) finalidade

**08.** Quanto à discricionariedade e vinculação do ato administrativo, é correto que discricionariedade e arbitrariedade são expressões sinônimas.

a) no ato vinculado a lei estabelece quase todos os requisitos e condições de sua realização, deixando pouca margem de liberdade ao administrador.

b) quanto aos elementos competência e finalidade do ato administrativo a lei pode deixar à livre apreciação da autoridade tanto no ato discricionário quanto no ato vinculado.

c) o Poder Judiciário pode apreciar o ato administrativo quanto aos aspectos da conveniência e oportunidade.

d) ato discricionário é aquele em que o administrador tem certa liberdade de escolha, especialmente quanto à conveniência e oportunidade.

**09.** A concorrência pública é a modalidade licitatória aplicável

a) apenas à contratação de obras, serviços e aquisições acima de R\$ 650.000,00 e concessão de serviços públicos.

b) à contratação de obras, serviços e aquisições acima de R\$ 650.000,00, concessão de serviços públicos e alienação de bens imóveis.

c) apenas à concessão de serviços públicos e contratação de obras, serviços e aquisições acima de R\$ 1.500.000,00.

d) à concessão de serviços públicos, alienação de bens imóveis e contratação de obras e serviços de engenharia acima de R\$ 1.500.000,00.

e) à contratação de obras, serviços e aquisições acima de R\$ 1.500.000,00.

**10.** Em conformidade com a Lei nº 8.112/90, o provimento dos cargos públicos far-se-á mediante ato da autoridade competente de cada Poder, sendo que a investidura em cargo público ocorrerá com a nomeação.

( ) Certo ( ) Errado

## Português

Leia o texto de Ana Maria Luz para responder à questão 11.

### Cidade ainda só recicla 1% de seu lixo

O programa municipal de coleta seletiva de São Paulo ainda deixa muito a desejar. É positivo que tenha passado de um sistema caro, insustentável, no início dos anos 90, para um programa realista, baseado na inserção dos tradicionais coletores de materiais recicláveis – os catadores – de forma co-operativada.

Ocorre que, na prática, a coisa não funciona tão bem. Após sete anos, o programa da maior cidade do País ainda é inexpressivo, reciclando menos de 1% do lixo. O número de cooperativas conveniadas está muito aquém do necessário, deixando grande parte da cidade sem atendimento. E o município ainda gasta milhões com isso. Onde está o erro?

A coleta seletiva com a inserção de catadores é possível. E justa. Pode ser duradoura e sustentável. Mas só se for encarada pelo governo, dentro de um serviço de gestão integrada de resíduos. Como ampliar a coleta e estender o serviço? As soluções são simples. Descentralizem a gestão, colocando em prática o que está proposto nos planos: pelo menos uma central de triagem.

Invistam na supervisão e na capacitação dos catadores, pois há grandes carências educacionais entre esses trabalhadores, o que impede que as cooperativas atinjam sua máxima capacidade. Informem a população sobre o programa, para que ela possa participar. Os recursos destinados à Educação Ambiental são pífios – ou não atingem os objetivos.

Defendemos que as cooperativas devam ser remuneradas pela coleta. Essa medida ajudaria a consolidar os empreendimentos, garantindo a manutenção do serviço.

Recentemente, uma ação que obriga a prefeitura a encarar seriamente o programa de coleta seletiva

foi aprovada em primeira instância. Há esperanças. O modelo é bom, mas precisa ser melhorado. Urgente.

(Ana Maria Luz, Presidente do Instituto GEA, especializado em Educação Ambiental, O Estado de S.Paulo, 09.05.2010)

11. A resposta à pergunta, no segundo parágrafo, – Onde está o erro? –, de acordo com o contexto, consiste em afirmar que

a) a inserção dos catadores torna-se viável, mediante o compromisso do governo em participar das tarefas.

b) os órgãos públicos estão atentos à responsabilidade de atuar convenientemente diante das questões ambientais.

c) as verbas destinadas à coleta seletiva pelo município são irrisórias, conforme consta nos documentos contábeis.

d) a presença de uma gestão integrada de resíduos prejudica o modo como os catadores de lixo trabalham.

e) o município supervisiona o trabalho dos catadores de lixo e toda a cidade se beneficia com os resultados da coleta.

12. Assinale a alternativa em que a palavra tenha sido formada pela união de dois radicais, ou seja, bases de sentido das palavras.

a) autogeridas (L.28)

b) descolonização (L.59)

c) superendividamento (L.95)

d) ecossistema (L.97)

e) desigualdades (L.100)

13. Assinale a opção que corresponde a palavra ou expressão destacada no texto abaixo que foi empregada de acordo com as regras de concordância.

Como nunca antes, a ordem e a cultura do capital mostram inequivocamente o seu rosto inumano, revelam a lógica perversa que as(1) dominam(2) internamente e que, antes, podiam ser escamoteadas(3) a pretexto do confronto com o socialismo: criam, por um lado, grande riqueza e concentração de poder à custa da devastação da natureza, da exaustão da força de trabalho e de uma estarrecedora pobreza. A utilização crescente da informatização e da robotização criam(4), ao dispensar o trabalho humano, os desempregados estruturais, hoje, totalmente descartáveis. E soma-se(5) aos milhões só nos países do Primeiro Mundo.

(Adaptado de Leonardo Boff. Depois de 500 anos: que Brasil queremos? Petrópolis, RJ: Vozes, 2000, p.41.)

a) (1)

b) (2)

c) (3)

d) (4)

e) (5)

14. Os trechos abaixo compõem um texto. Assinale o fragmento que apresenta incorreção gramatical.

a) Um filme não é apenas um filme, mas também a maneira como ele se comunica com o público. O título do novo documentário de Maria Augusta Ramos vem todo escrito em letras minúsculas: justiça.

b) A primeira informação que recebemos é a de que o filme talvez não se refira ao sistema judiciário, comumente grafado como Justiça, mas a uma acepção mais genérica da palavra.

c) O filme parece ver a justiça como categoria abstrata, ou então como substantivo que designa não só a justiça criminal, mas também a justiça social. A grafia pode sugerir, ainda, uma crítica ao sistema judiciário.

d) Como se o título afirmasse: "do jeito que é feita no Brasil, a chamada justiça não merece uma maiúscu-

la." De fato, não é alheia às intenções da realizadora o desejo de que o filme contribua para as discussões em torno da reforma judiciária brasileira.

e) O filme, vencedor do Festival Vision du Réel (Nyon, Suíça, 2004), mostra o horror das cadeias apinhadas de homens, o drama das visitas familiares sem o menor espaço para privacidade, o coro assustador dos simpatizantes do Comando Vermelho.

(Adaptado de Carlos Alberto Mattos, Corredores sem saída, 24/06/2004 [www.nominimo.com](http://www.nominimo.com))

15. Indique a opção que preenche com correção os espaços numerados do trecho abaixo.

....(1).... história por escrever do século vindouro cabe o desafio de encontrar formas de convívio em que ....(2).... força da integração seja o resultado da vitalidade das partes e em que .... (3).... independência das partes se associe a força da unidade.

(Adaptado de Paulo T. Flecha de Lima, "Acaba a América? Três Américas? E o Brasil?")

a) A - a - a                      b) À - a - à                      c) A - à - a

d) A - à - à                      e) À - a - a

16. Estão corretamente empregadas e flexionadas todas as formas verbais da frase:

a) Se não intervirmos no mundo em que vivemos, para garantir seu equilíbrio, talvez nem mesmo Deus se interesse por nos favorecer.

b) Se a religião não se dispor a refazer os cálculos, o número de 7.000 anos que ela impele ao mundo parecerá cada vez mais absurdo.

c) Se os crentes requisassem e obtivessem a presença de Deus como prova de sua existência, os cientistas passariam a examiná-lo.

d) Mesmo que todos os religiosos conviessem quanto à existência de um único Deus, ainda assim pouco teria este a inspirar os cientistas.

e) Mesmo que todos os cientistas fossem agnósticos, e se detessem no caminho exclusivo da ciência, a dúvida acabaria por assaltar alguns.

17. A frase em que a flexão verbal e a nominal estão em total concordância com o padrão culto escrito é:

a) Sei que ele remoe a ideia de que sua cômjuge possa ter dificuldades durante sua ausência, por isso ele proviu a família do necessário antes de viajar.

b) Se ele não se comprovasse, seria diferente, mas, como soe acontecer, ele imediatamente se prontificou a organizar a exéquia do soldado morto em ação.

c) Isto constitui verdade inconteste: ele sempre obstrói as negociações, mesmo quando se desenvolvem apoiadas em legítimos abaixo-assinados.

d) Peça-lhe que remedie a falta de conforto que gerou ao distribuir indiscriminadamente os salvo-condutos disponíveis, e, se ele não se dispôr a fazê-lo, avise-nos.

e) Se ele antevir os problemas que possam decorrer de sua ousadia, ou se reouver o juízo, certamente não será uma vítima do próprio atrevimento.

18. É bom lembrar que a ciência cria modelos que descrevem a realidade; esses modelos não são a realidade, só nossas representações dela. As "verdades" que tanto admiramos são aproximações do que de fato ocorre. (L.64-68) As ocorrências do QUE no período acima classificam-se corretamente como

a) conjunção - pronome relativo - pronome relativo - pronome relativo

b) conjunção - pronome relativo - conjunção - conjunção

c) conjunção - pronome relativo - pronome relativo - conjunção

d) pronome relativo - conjunção - pronome relativo - conjunção

e) pronome relativo - conjunção - pronome relativo - pronome relativo

**19.** A frase que está pontuada de acordo com os preceitos da gramática é:

a) Mas é preciso ver nos textos, como o autor apresenta a relação de conciliação essencial entre a consciência cristã; e as práticas de eficácia temporal.

b) Pois bem: se ele não os induziu a responderem, o que desejava que fosse respondido; o que é que ele fez?

c) Basta então, que se conheçam as normas de organização social do período para que sejam compreendidas, em suas minúcias os atritos delas decorrentes.

d) As histórias relatadas nos seus romances iniciais - que se distinguem, sensivelmente, dos relatos mais recentes - são, na sua maioria, fruto da influência da cultura irlandesa.

e) A ação deles é, portanto, embora pouco divulgada, digna de reconhecimento, dos que os apoiaram nas mais diversas, circunstâncias.

**20.** Sob o ângulo especificamente ético, não haverá escolha, exercício da liberdade, definição ética quando não houver avaliação, preferência a respeito das ações humanas. Eis por que na base da ética, como dissemos, encontram-se necessariamente a liberdade e a valoração; a ética só se põe no mundo da liberdade, da escolha entre ações humanas avaliadas.

Com relação à estrutura e à compreensão do trecho transcrito, é correto afirmar que:

a) a grafia de por que justifica-se por se tratar, morfologicamente, de uma conjunção subordinativa explicativa.

b) a oração como dissemos é do tipo intercalada e expressa uma retificação ao que foi dito.

c) as palavras escolha e exercício classificam-se sintaticamente como núcleos de sujeito.

d) o deslocamento do vocábulo só para a posição anterior ao artigo a não altera o sentido original da frase.

e) a conjunção quando introduz uma oração que exprime condição para a realização do fato anteriormente expresso.

Raciocínio Lógico

FCC – BB 2011

21. Dos 36 funcionários de uma Agência do Banco do Brasil, sabe-se que: apenas 7 são fumantes, 22 são do sexo masculino e 11 são mulheres que não fumam. Com base nessas afirmações, é correto afirmar que o

- (A) total de funcionários não fumantes é 28.
- (B) número de homens que não fumam é 18.
- (C) número de homens fumantes é 5.
- (D) número de mulheres fumantes é 4.
- (E) total de funcionários do sexo feminino é 15.

CESPE - TRT RJ - 2010

22) considere que sejam verdadeiras as proposições:

- (I) Todos advogados ingressam no tribunal por concurso público;
- (II) José ingressou no tribunal por concurso público; e
- (III) João não é advogado ou João não ingressou no tribunal por concurso público.

Nesse caso, também é verdadeira a proposição:

- A) José é advogado.
- B) João não é advogado.
- C) Se José não ingressou no tribunal por concurso público, então José é advogado.
- D) João não ingressou no tribunal por concurso público.
- E) José ingressou no tribunal por concurso público e João é advogado.

23) FCC - 2010 - Leia atentamente as proposições P e Q:

- P: o computador é uma máquina.
- Q: compete ao cargo de técnico judiciário a construção de computadores.

Em relação às duas proposições, é correto afirmar que

- (A) a proposição composta “P ou Q” é verdadeira.
- (B) a proposição composta “P e Q” é verdadeira.
- (C) a negação de P é equivalente à negação de Q.
- (D) P é equivalente a Q.
- (E) P implica Q.

24) - (AFT - 2010 / ESAF)

O departamento de vendas de uma empresa possui 10 funcionários, sendo 4 homens e 6 mulheres. Quantas opções possíveis existem para se formar uma equipe de vendas de 3 funcionários, havendo na equipe pelo menos um homem e pelo menos uma mulher?

- a) 192.                      b) 36.                      c) 96.
- d) 48.                      e) 60

25) Esaf – 2010 –

Em uma urna existem 200 bolas misturadas, diferindo apenas na cor e na numeração. As bolas azuis estão numeradas de 1 a 50, as bolas amarelas estão numeradas de 51 a 150 e as bolas vermelhas estão numeradas de 151 a 200. Ao se retirar da urna três bolas escolhidas ao acaso, com reposição, qual a probabilidade de as três bolas serem da mesma cor e com os respectivos números pares?

- a)  $\frac{10}{512}$                       b)  $\frac{3}{512}$
- c)  $\frac{4}{128}$                       d)  $\frac{3}{64}$                       e)  $\frac{1}{64}$

MATEMÁTICA

**26** FCC - 2011 - Banco do Brasil - Escriturário Gertrudes e Rubem - funcionários de uma Agência do Banco do Brasil - receberam, cada um, uma mesma quantidade de folhetos para a divulgação de serviços e produtos oferecidos pelo Banco. Sabendo que, se Gertrudes repassar a terça parte de seu total de folhetos para Rubem, então ele terá que distribuir 64 folhetos a mais do que ela. É correto concluir que o total de folhetos que cada um recebeu inicialmente é um número compreendido entre

- a) 10 e 25.
- b) 25 e 50.
- c) 50 e 75.
- d) 75 e 100.
- e) 100 e 125

**27)** FCC - 2010 - TRE-AC - Técnico Judiciário - Área Administrativa

No almoxarifado de uma Unidade do Tribunal Regional Eleitoral há disponível: 11 caixas de lápis, cada qual com 12 unidades; 9 caixas de borrachas, cada qual com 8 unidades; 8 caixas de régua, cada qual com 15 unidades. Sabe-se que:

- todos os objetos contidos nas caixas acima relacionadas deverão ser divididos em pacotes e encaminhados a diferentes setores dessa Unidade;

- todos os pacotes deverão conter a mesma quantidade de objetos;

- cada pacote deverá conter um único tipo de objeto. Nessas condições, a menor quantidade de pacotes a serem distribuídos é um número compreendido entre:

- a) 10 e 20.
- b) 20 e 30.
- c) 30 e 40.
- d) 40 e 50
- e) 50 e 60.

**28)** VUNESP - 2011 - SAP-SP - Oficial Administrativo

Sabe-se que a razão entre os salários líquidos de Laura e de Paula é de 2 para 3, nessa ordem, e que Paula recebe R\$ 600,00 a mais do que Laura. Juntas, compraram uma nova TV, cujo preço foi dividido

entre elas de forma diretamente proporcional aos respectivos salários líquidos, sendo que a quantia que Paula pagou corresponde a  $\frac{2}{5}$  do seu salário líquido. Desse modo, é correto afirmar que nessa compra Paula pagou

- a) R\$ 720,00.
- b) R\$ 670,00.
- c) R\$ 640,00.
- d) R\$ 520,00.
- e) R\$ 480,00.

**29)** (Fundação Carlos Chagas - Analista Judiciário / TRT da 1ª REGIÃO / 2011 (RJ)

Se  $x$  é um número inteiro positivo tal que  $E = \frac{1}{2} + \frac{1}{3} + \frac{1}{7} + \frac{1}{x}$  seja um número inteiro, então,

- a) Existem infinitas possibilidades distintas para  $x$ .
- b)  $x$  é múltiplo de 12.
- c)  $x$  é maior do que 84.
- d)  $x$  tem oito divisores.
- e)  $E$  pode ser maior do que 2.

**30)** VUNESP - 2009 - TJ-SP - Oficial de Justiça

Em uma biblioteca escolar, uma pilha de 50 livros tinha 1,8 m de altura e era formada por livros paradidáticos iguais, de 3 cm de espessura, e livros didáticos iguais, de 6 cm de espessura. A bibliotecária retirou metade dos livros didáticos da pilha, para arrumá-los numa estante e, assim, a altura da pilha foi reduzida em

- a) 30 cm
- b) 42 cm.
- c) 50 cm.
- d) 56 cm.
- e) 60 cm.

**31)** CESPE - 2011 - Correios - Agente de Correios

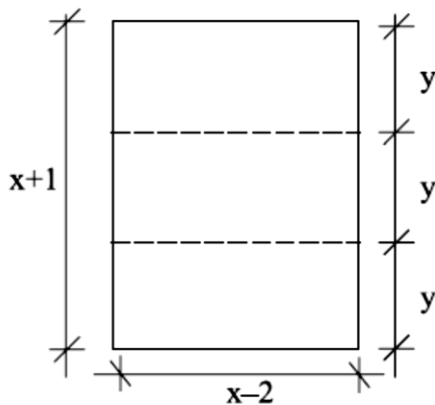
O piso de uma sala retangular, medindo 3,52 m x 4,16 m, será revestido com ladrilhos quadrados, de

mesma dimensão, inteiros, de forma que não fique espaço vazio entre ladrilhos vizinhos. Os ladrilhos serão escolhidos de modo que tenham a maior dimensão possível.

Na situação apresentada, o lado do ladrilho deverá medir

- a) mais de 30 cm
- b) menos de 15 cm
- c) mais de 15 cm e menos de 20 cm.
- d) mais de 20 cm e menos de 25 cm.
- e) mais de 25 cm e menos de 30 cm.

**32)** Uma folha retangular de lados iguais a  $x+1$  e  $x-2$  e com  $54\text{cm}^2$  de área, foi dividida em três retângulos iguais.



A medida do lado menor de cada retângulo, indicada por  $y$  na figura, é

- a) 6 cm
- b) 5 cm
- c) 4 cm
- d) 3 cm
- e) 2 cm

**33)** CESGRANRIO - 2010 - BNDES - Técnico Administrativo

Quatro bombas d'água idênticas, trabalhando simultânea e ininterruptamente, são capazes de encher completamente uma piscina em 5 h. Quando a piscina está totalmente vazia, as quatro bombas são postas em funcionamento. Após 2 h de trabalho contínuo, uma enguiça. As outras três permanecem trabalhando, até que a piscina esteja totalmente cheia.

Quanto tempo, ao todo, é necessário para que a piscina fique cheia?

- a) 5 horas e 30 minutos.
- b) 5 horas e 45 minutos.
- c) 6 horas.
- d) 6 horas e 30 minutos.
- e) 7 horas.

**34)** FCC - 2011 - TRT - 4ª REGIÃO (RS) - Técnico Judiciário

Na compra de um par de sapatos, Lucimara pode optar por duas formas de pagamento:

- à vista, por R\$ 225,00;

- R\$ 125,00 no ato da compra mais uma parcela de R\$ 125,00, um mês após a compra.

Se Lucimara optar por fazer o pagamento parcelado, a taxa mensal de juros simples cobrada nesse financiamento é de

- a) 10%.
- b) 20%.
- c) 25%.
- d) 27%.
- e) 30%

**35)** CESPE - 2011 - Correios - Agente de Correios

Um investidor aplicou R\$ 10.000,00, por 2 anos, à taxa de juros compostos anuais de 10%.

Com base no texto, é correto afirmar que, ao final do período de 2 anos, o juro obtido nesse investimento foi

- a) superior a R\$ 1.300,00 e inferior a R\$ 1.600,00.
- b) superior a R\$ 1.600,00 e inferior a R\$ 1.900,00.
- c) superior a R\$ 1.900,00 e inferior a R\$ 2.200,00.
- d) superior a R\$ 2.200,00.
- e) inferior a R\$ 1.300,00.

INFORMÁTICA

36 – Analise as afirmativas abaixo e responda quantos itens estão corretos:

I – Ao navegar no Internet Explorer 9.0 utilizando o Windows 7, ao clicar com o botão direito no ícone da barra de ferramentas, é possível acessar os sites mais frequentemente utilizados.

II – O Filtro do SmartScreen protege de sites falsos.

III – Ao navegar no Internet Explorer 9.0 utilizando o Windows 7, a tecla de atalho para tela cheia é F12.



IV – Ao navegar no Internet Explorer 9.0 utilizando o Windows 7, a tecla de atalho para adicionar a página atual aos favoritos é CTRL + i


- a) 1    b) 2    c) 3    d) 4    e) 0

37 - A respeito do sistema operacional Windows 7, julgue os itens subsequentes.

- O menu Iniciar do Windows XP pode ser ativado ao se pressionarem, simultaneamente, as teclas CTRL e ESC.

- No Windows, os ícones de atalho possuem como característica uma seta no canto inferior esquerdo, e a área de notificação apresenta ícones que permanecem ativos em segundo plano.

- Quando uma janela no Windows está restaurada, ela maximizará se pressionarem, simultaneamente, as teclas  e .

- A área de trabalho do Windows passará a ser exibida se pressionarem, simultaneamente as teclas  e M

A quantidade de afirmativas corretas é:

- a) 0    b) 1    c) 2    d) 3    e) 4

38 - No Word 2010 em sua configuração padrão, o



botão **Instantâneo** respectivamente encontra-se em qual guia e qual sua função?

- a) Guia Inserir - Função de capturar uma tela ou parte dela.
- b) Guia Exibição - Função de capturar uma tela ou parte dela.
- c) Guia Inserir - Função de capturar uma imagem da webcam
- d) Guia Exibição - Função de capturar uma imagem da webcam
- e) Guia Exibição - Função de editar uma foto inserida no Word

39 - No Excel 2010 em sua configuração padrão, os



Teste de Hipóteses



Texto para colunas

botões **Teste de Hipóteses** e **Texto para colunas** estão respectivamente nos guias:

- a) Fórmulas e Inserir
- b) Fórmulas e Dados
- c) Dados e Fórmulas
- d) Inserir e Inserir
- e) Dados e Dados

40 - No Excel 2010 em sua configuração padrão, um usuário digitou a seguinte fórmula na célula A5 da planilha abaixo  
 =SE(B3^A1<=\$B\$2;A2+A3;SE(SOMA(A1;C3)<>C1;A2&A1;C2^A1))

	A5			
	A	B	C	
1	2	8	9	
2	8	7	9	
3	6	5	6	
4				

E obteve o resultado:

- a) 14    b) 82    c) 81    d) 60    e) 80

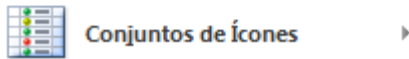
41 - Observando a imagem abaixo, no Excel 2007, qual a ferramenta que tem tal opção:



Barras de Dados



Escala de Cor



Conjuntos de Ícones

- a) Formatar como tabela
- b) Estilo de célula
- c) Formatar
- d) Formatação condicional
- e) Pincel de formatação

**42** - No Microsoft Office PowerPoint 2010, em sua configuração original, para fazer com que os slides de uma apresentação avancem automaticamente após 5 segundos, deve-se acessar o seguinte grupo:

- a) Intervalo da Apresentação da guia Exibição.
- b) Intervalo da guia Transições.
- c) Transição para este Slide da guia Animações.
- d) Animações da guia Design.
- e) Avançar Slide da guia Animações.

**43** - Qual das opções abaixo não é uma distribuição Linux:

- a) Conectiva
- b) Kurumin
- c) Debian
- d) Fedox
- e) Ubuntu

**44** - As extensões respectivas dos programas Writer – BrOffice 3.4; Calc – BrOffice 3.4 Microsoft Excel 2010; Microsoft Access 2010 são:

- a) odt; ods; xlsx; accdb
- b) odb; ods; xlsx; acdba
- c) odt; ods; xlsx; mdbx
- d) odt; odx; xlsx; accdb
- e) odb; odx; xlsx; mdbx

**45** - A calculadora do Windows 7 tem como novidade:

- a) cálculos de datas; cálculo financeiro e conversão de valores
- b) cálculos estatísticos; cálculo financeiro e salvar histórico.
- c) salvar PDF; cálculos de datas e conversão de valores
- d) cálculos de datas; cálculo financeiro e salvar histórico
- e) cálculo financeiro; conversão de valores e importar planilhas

## ATUALIDADES

46) O prêmio Nobel da Paz de 2011 foi conferido à:

a) **Ellen Johnson Sirleaf**, presidente da Libéria, **Leymah Gbowee**, militante e à **Tawakkul Karman**, jornalista e ativista do Iemen, por sua luta não violenta pela segurança das mulheres e pelos seus direitos a participar dos processos de paz

b) **Oswaldo Paya** (Projeto Varela), principal dissidente político cubano por sua luta pacífica por liberdades de associação, expressão, imprensa e de religião, eleições multipartidárias, reformas econômicas e anistia para os presos políticos em Cuba

c) **Bradley Manning**, ex-soldado norte-americano, apontado como responsável por entregar documentos sigilosos dos EUA ao WikiLeaks (pelas contribuições para a liberdade de expressão e transparência e que por divulgar a informações sobre corrupção, violações dos direitos humanos e crimes de guerra)

d) **João Paulo II**, em homenagem póstuma, devido a seus esforços por aliviar as tensões entre os distintos credos e sua oposição à guerra no Iraque

e) **Hosni Mubarak**, ex-presidente do Egito, e **Muammar Gaddafi**, ex-presidente da Líbia, por seus esforços sociais avanço dos direitos humanos no mundo e luta pelos foragidos e perseguidos de guerra

47) A primeira medalha de ouro do Brasil em um Mundial de Atletismo (ocorrido em 2011 em Daegu na Coreia do Sul) foi conquistada por:

- a) **Maurren Maggi**, no salto em distância
- b) **Jade Barbosa**, na ginástica artística
- c) **Daiane dos Santos**, na ginástica artística
- d) **Fabiana Murer**, no salto com vara
- e) **Diego Hypolito**, na ginástica artística

48) A crise econômica de 2008 continua assombrando diversos países, em especial a Europa em 2011. Além dos países conhecidos como PIGS, neste ano um país europeu tem gerado ameaça aos demais países da União Europeia, por sua crise. Estamos falando:

- a) da **França**
- b) da **Alemanha**
- c) da **Itália**
- d) da **Ucrânia**
- e) do **Egito**

49) O partido político, criado pelo atual prefeito de São Paulo Gilberto Kassab, é:

- a) **PPL** (Partido Pátria Livre)
- b) **PSD** (Partido Social Democrático)
- c) **PSPB** (Partido dos Servidores Públicos e da Iniciativa Privada do Brasil)
- d) **PDVS** (Partido Democrático da Vida Social)
- e) **PEN** (Partido Ecológico Nacional)

50) Em setembro de 2011, durante a Assembleia Geral da ONU, fez o pedido para ser um estado membro das Nações Unidas:

- a) Taiwan
- b) Montenegro
- c) Timor Leste
- d) Sudão do Sul
- e) Palestina